
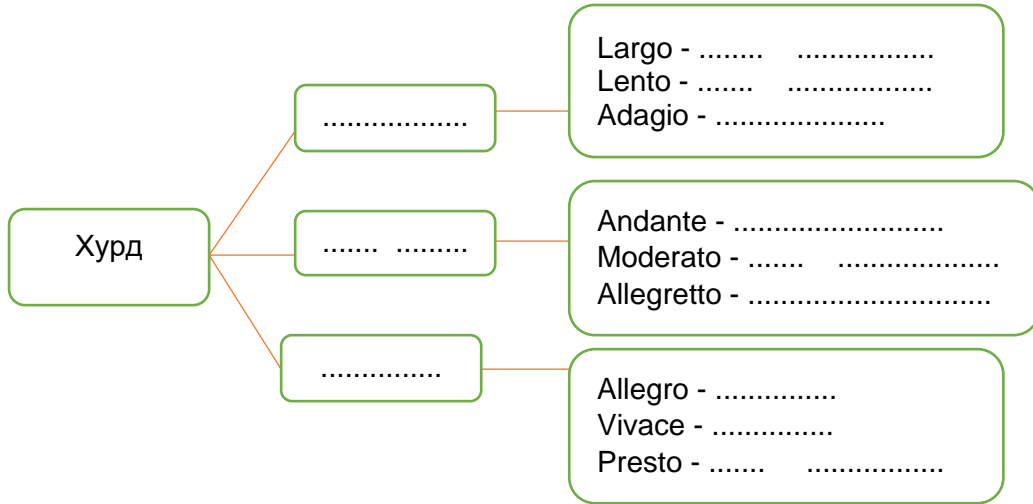


IV АНГИЙН ХӨГЖМИЙН ШАЛГАЛТЫН ЖИШИГ ДААЛГАВАР

1. Дараах тэмдэглэгээ, нэршлийг зөв нэрлэн, ямар үүрэгтэйг бичээрэй



2. Хурдны тэмдэглэгээний орхигдсон хэсгийг зөв нэрлэн бичээрэй.



3. Голын хүснэгтэд өгөгдсөн үгсийг уншаад, нар зөв тойруулан тэмдгээр бичээрэй.


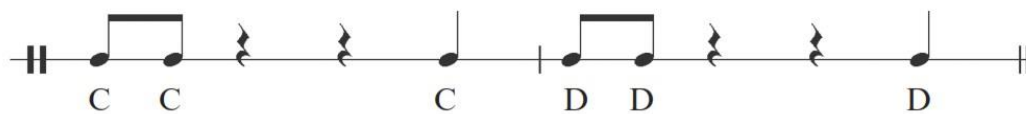


4. Хурдац болон хүчдэлийг заасан хөгжмийн нэр томъёонуудыг уншаад ангилан бичээрэй.







- | | | | |
|------------|---------------|-----------|---------------|
| 1. Allegro | 3. Moderato | 5. Adagio | 7. Mezzopiano |
| 2. Forte | 4. Diminuendo | 6. Presto | 8. Crescendo |

Хурдац	Хүчдэл

5. Дараах хэмнэлийг ажиглан үсгэн тэмдэглэгээг ноотны шугам дээр соль түлхүүрт байрлуулан айзам хэмжээг тодорхойлоорой.



6. Дараах зохиолуудын бүтэц хэсгийг зөв тохируулан холбоорой.

- | | | |
|---|---|-----------------------------------|
|  | - | Э.Чойдог “Жалам хар” |
|   | - | Ц.Намсрайжав “Халуун элгэн нутаг” |
|    | - | И.Брамс “Бүүвэйн дуу” |

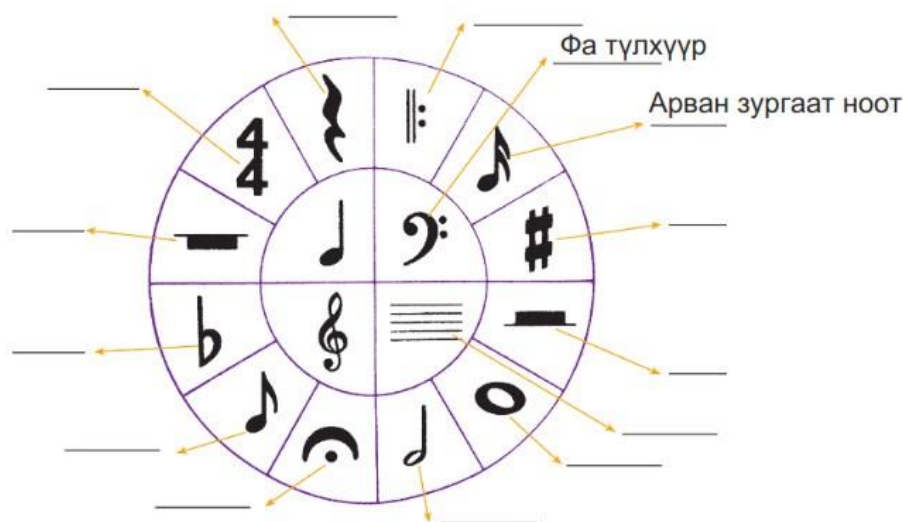
7. Өгөгдсөн айзамд ямар хэмжээтэй ноот хэд байх вэ?

$\frac{3}{4} =$  $\frac{3}{8} =$

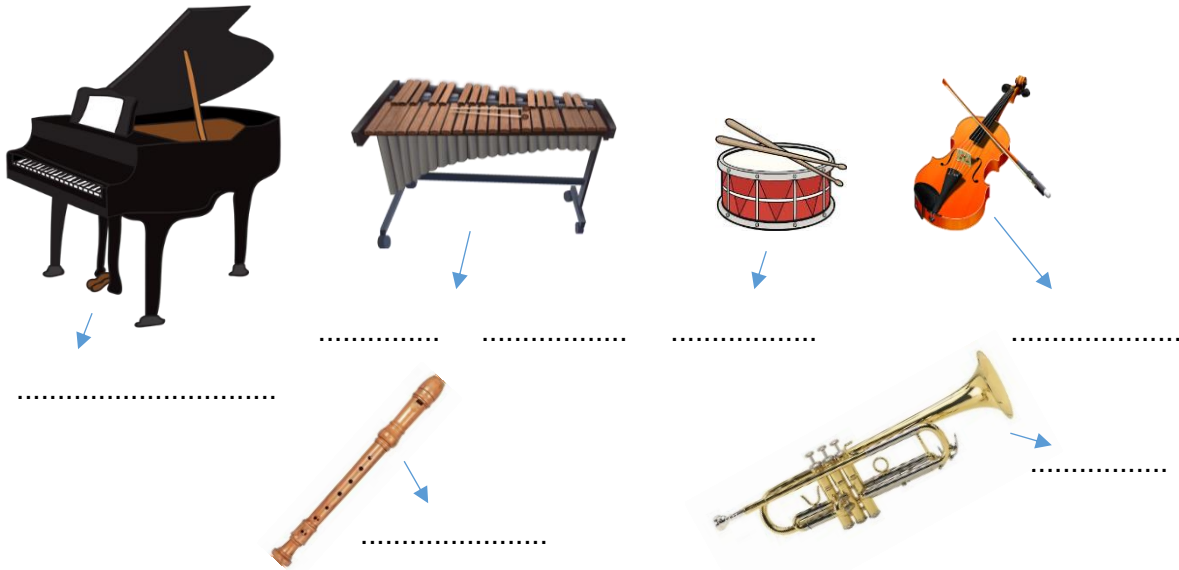
$\frac{2}{4} =$ $\frac{4}{4} =$

$\frac{6}{8} =$ $\frac{6}{4} =$

8. Дараах дүрст тэмдэглэгээг нэрлээрэй.



9. Дараах хөгжмийн зэмсгүүдийг нэрлэн бичээрэй.



10. - Бишгүүр хөгжмийн барилтыг үсгэн тэмдэглэгээгээр нэрлээрэй.
 -Нэрлэсэн ноотоо дэвсгэр шугам дээр хагас ноотоор байрлуулаарай.


Үсгэн тэмдэглэгээ

Хагас ноот

bethsnotes.com

11. Бишгүүр хөгжим дээр си бемоль ноотны барилтыг тэмдэглээрэй.

12. Дараах ноот бичлэгт байгаа хувиргалын тэмдэгтэй ноотуудыг нэрлэн бичээрэй.



13. Дараах дууны ноот бичлэгт орхигдсон үгийг нөхөж бичээрэй.

Цэцэг юм уу би



14. Дараах дууны ноот бичлэгийг ажиглан дараах асуултын дагуу гүйцэтгээрэй.

- Дууны нэр.....
- Хурдыг тодорхойлоорой.....
- Дууны бадаг дахилтын аль нь 2 хоолойгоор дуулж байна вэ?
.....
- Дахилтын тэмдгийг олж дугуйлаарай.
- Улаанаар яагаад тэмдэглэсэн байна вэ?
.....
- Дууны 2 дугаар бадгийг бичээрэй.
.....
.....
.....



Сонсох хөгжим.

15. Хөгжмөө анхааралтай сонсоод дараах асуултад хариулаарай.

- Ямар хөгжмийн зэмсгээр гоцлон хөгжимдсэн бэ?.....
- А Б А гэсэн бүтэц хөгжмийн ямар хэлбэрийг илэрхийлж байна вэ?
- Хөгжмөө сонсоод зураглалыг гүйцээгээрэй.


?

Хөгжмийн зэмсэг.....



Хурд.....

Хөгжмийн зэмсэг.....

?




?





16. Хөгжмөө анхааралтай сонсоод зураглалыг ашиглан дараах асуултад хариулаарай.


- Зохиолын нэр.....
- Уриа дуудлагыг ямар хөгжмийн зэмсгээр хөгжимдөж байна вэ?.....
- Хэдэн хэсгээс бүтэж байна вэ?
- Хөгжмөө сонсоод өгөгдсөн хэмнэл зохиолын аль хэсэгт байгааг тодорхойлоорой.

1. А 2. Б

Уриа дуудлага ||:  :||

A ||:  :||

B ||:  :||

A ||:  :||

a. 

б. 