

7-р ангийн Дүрслэх урлагийн хичээлийн жишиг даалгавар

/40 минут/

1. Харандааны чанга сул даралтаар тод ба өнгө гардаг. \ 2 оноо \
2. Маш богино хугацаанд аливаа зүйлийн дүр төрх гол утга санааг илэрхийлж хурдан дүрслэсэн зураглалыг гэнэ. \ 2 оноо \
3. Аливаа уран бүтээлийг хийхийн тулд гол ба туслах дүрүүд болон уран бүтээлд орох дүр дүрслэлийг хэсэгчлэн судалж зурсныг гэнэ \ 2 оноо \
4. Сээр нуруутан амьтдын ерөнхий шинжээс нэрлэ. \ 4 оноо\
А.Б. хүзүү В. Сээр нуруу Г. Сүүж Д.Е.дал Ё. Өвдөг Ж. борви
5. Хүн амьтныг дүрслэхдээ ? \ 2 оноо \
А. Бодитоор Б. Бүдүүвчилж В.
- 6.Баримал барихдаа 4 ангилладаг \ 2 оноо \
А. Гонзгойлох Б..... В.хавтгайлах Г. Нэгтгэх
- 7.Харилцан нийлэмжтэй болж зохицохыг хоршил гэнэ.\2 оноо \
- 8.Өнгө харилцан эс зохицохыг өнгийн гэнэ. \2 оноо \
9. Өнгийг ерөнхийд нь 2 ангилдаг нэрлэнэ үү? \ 4 оноо \
А. Б.
10. Өнгийн хүнд хөнгөний ялгааг өнгийн гэнэ \ 2 оноо \
- 11.Зургийг зурахдаа харааны ямар ямар түвшинд зурах вэ? \ 4 оноо \
А. Б. Харааны В.
12. Өвийг нэрлэж харгалзуул \ 3 оноо \
А. Байгалийн өв 1. Ерөөл магтаал
Б. Соёлын биет өв 2. Нов ногоон ургамал
В. Биет бус өв 3. Уран барилга,хэрэм цайз
13. Хүрээлэн байгаа юмс ажиглагчаас холдох тусам дүрс жижгэрч харагдахыг дүрсийн гэнэ. \2 оноо \
- 14.Зурагт харагдах талын мандлыг түвшний шулуун,замын цэг болон харагдах үзэгдлийг цэг гэнэ. \2 оноо \
15. Эргэлтийн бие дээр сүүдрийг 6 бүсд хуваадаг. \2 оноо \
А. Гэрлийн гялаан
Б. бүс

- В. Хагас сүүдэр
- Г.Өөрийн сүүдэр
- Д.Ойсон
- Е.Унасан сүүдэр

16. Тусгай бэлтгэсэн хэвэн дээр,цаасыг дахин нааж,товойлгох аргаар урласныг..... гэнэ. \2 оноо \

17.Монгол зургийг ардын зураг,шүтээн зураг гэж хуваадаг. Шүтээн зургийг дотор нь юу юу гэдэг вэ? \4 оноо \

- А. Нагтан
- Б.....
- В. Гартан
- Г.....

18.Доорхи нэр томъёог зөвийг харгалзуул.\ 3 оноо\

- | | |
|------------------|------------|
| А. Биет чанар | 1. Колорит |
| Б. Зонхилох өнгө | 2. Фактур |
| В. Гялаан | 3. Блик |

19.Монгол зургийн төрлүүдээс харгалзуулан зурна уу? \ 3 оноо \

- | | |
|--------------|---|
| А. Усан хээ | 1. Хязгааргүй эрх чөлөө,баяла,эцэс төгсгөлгүй |
| Б. Уулан хээ | 2.тунгалаг ариун,эх ундарга хөгжил цэцэглэлт |
| В. Үүлэн хээ | 3.Бодол оюуны гүйцэгдэшгүй сэтгэлгээ,бат бэх ул суурь |

20. Зөв харгалзуулна уу? \ 3 оноо\

- | | |
|----------------------|-----------|
| А.Таж-Махалын бунхан | 1. Хятад |
| Б.Цагаан хэрэм | 2.Араб |
| В.Египетийн пирамид | 3.Энэтхэг |

11. Ширэмний найрлагад хэдэн хувь нүүрстөрөгч агуулагддаг вэ?

- A. 0.01-2% Б. 2-4% В. 4-өөс дээш /1оноо/

12. **Металлын технологийн шинж чанарт юу юу ордог вэ?** /2 оноо/

.....

13. **Металл боловсруулах үндсэн аргуудаас аль нь биш вэ?** Сонгож доогуур нь зураарай. /1 оноо/

(Халуунаар боловсруулах, хүйтнээр боловсруулах, даралтаар боловсруулах, огтолж боловсруулах, дулааны боловсруулалт)

14. **Дамжуулгийн төрөлд аль нь орох вэ?**

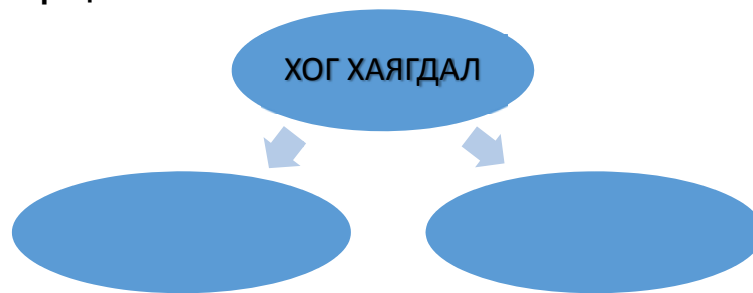
- A. Хэлбэлзэх В. Гинжин дамжуулга
C. Давших D. Эргэлдэх

15. **Металлыг даралтаар боловсруулах аргуудаас Цувих аргыг зураарай.** /2 оноо/

16. **Монгол дарханы уламжлалт аргаас ширээх аргыг тайлбарлан бичээрэй.** /2 оноо/

.....
.....

17. **Хүснэгтийг гүйцээ** /2 оноо/.



18. **“Ахуйн болон үйлдвэрлэлийн хог хаягдлыг дахин боловсруулах боломж” сэдэвт эссэ бичих 50-60 үгтэй** /5 оноо/

7-р ангийн дизайн технологи хичээлийн жишиг даалгавар
\эмэгтэй\ 40 минут

1. Дэвсгэртийн стандарт тэмдэглэгээ, хэмжээг харгалзуулна уу. /1 оноо/

A4	297x420
A3	420x594
A2	210x297

2. Талын урт 40 мм, өндөр нь 80 мм хэмжээтэй гурван талт призмийн дэлгээсийг байгуулан зураарай. \цаасны ард\ /1 оноо/

3. Цэгийн оронд тохирох тоог нөхөж бичнэ үү. /2 оноо/

Куб нь тал, өнцөгтэй..... ирмэгтэй

4. Дэгээ зүүний сүлжмэлийн багаж хэрэгсэлийн зөвийг нь дугуйлна уу. /1оноо/

A. Гар зүү. Б. Сүлжмэлийн утас. В. Хайч. Г. Шугам Д.Харандаа

5. Аль нь сүлжээсний төрөл вэ ? /1оноо/

A. Ханан оёдол В. Зүү ороох С. Зүүг нэг ороосон багана D. Хөвөрдөх

6. Хонин холбоо сүлжээсний схем тэмдэглэгээг сонгоорой. /1 оноо/

A. X

B. T

C. O

D. №

7. Механизмийн төрөлд аль нь орох вэ?

A. Хэлбэлзэх

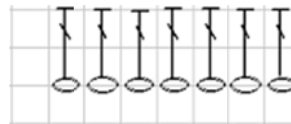
B. Нударган механизм

C. Давших

D. Эргэлдэх

8. Схемийг уншиж дараах даалгаврыг гүйцэтгээд A, b тоог бичнэ үү?

1. Хонин холбоо= A



2. Зүүг 1 ороосон багана= b

9. Шар шувууны нүдийг Тойрог гаргаж сүлжихэд 12 см утас хэрэглэдэг бол 2 тойрог сүлжихэд хэдэн см утас орох вэ?

1-р тойрог= 12 см

2-р тойрог=ab см

10. Дэгээ зүүний сүлжмэлийн утасны тохиргоог яаж хийдэг вэ? Зөвийг нь дугуйлна уу. (1)

A. Зүүний диаметрийн хэмжээнээс утас нь ялимгүй нарийн байх.

B. Зүүний диаметрийн хэмжээнээс утас нь ялимгүй өргөн байх.

C. Зүү утасны диаметрийн хэмжээ тэнцүү байх.

- D. Зүү утасны диаметрийн хэмжээ хамаарахгүй
- E. Зүүний диаметрийн хэмжээнд утсыг тохируулах

11. **Аль нь сүлжээсний төрөл вэ ? /1 оноо/**

- A. Давхарлах эгнээ
- Б. Шүдэн оёдол
- В. Загасан нуруу
- Г. Хөвөрдөх

12. **Зүүг 2 ороосон багана сүлжээсний схем тэмдэглэгээг сонгоно уу /1 оноо/**

- A. X
- Б. T
- С. O
- D. ₯

13. **Хөдөлгөөний төрөлд аль нь орох вэ? /1 оноо/**

- A. Мальтийн механизм
- В. Нударган механизм
- С. Давших
- D. Тээглүүрт механизм

14. **Харгалзах шугамны нэрийг холбоно уу. /1 оноо/**



- а. Шулуун шугам
- б. Гурвалжин шугам
- в. Транспортер

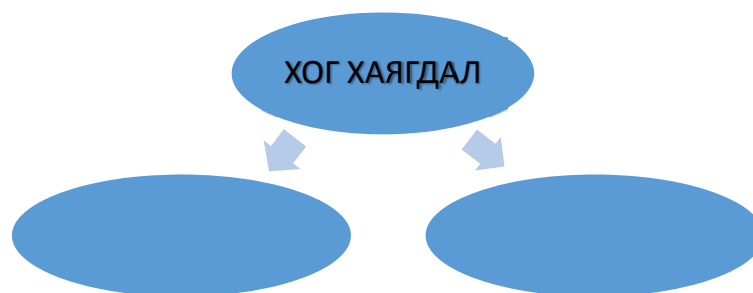
15. **Дэгээ зүүний сүлжмэлийн зүүний дугаарыг зөвийг нь дугуйлна уу. /1 оноо/**

- A. 1-7
- Б. 1-8
- В. 1-4
- Г. 1-5

16. **Гар оёдлын зүү хэдэн ноймерийн дугаартай байдаг вэ? /1 оноо/**

- A. 1-12
- Б. 2-12
- В. 1-10

17. **Хүснэгтийг гүйцээ /2 оно**



18. **“Ахуйн болон үйлдвэрлэлийн хог хаягдлыг дахин боловсруулах боломж” сэдэвт эссэ бичих 50-60 үгтэй /5 оноо/**