




Сонгох даалгавар

1. Аль аль нь зурган мэдээлэл вэ? Сонгож дугуйлна уу. /оноо 3/

А. Мэдээлэл бол үйлдэл бүхнийг үг, дүрс, зураг, дуу авиа болгон цоожилсон эрдэнэсийн хайрцаг	В. 	Д. 
Б. 3x3=9	Г. 	Е. Зурган мэдээлэл

2. Компьютер унтраах дарааллыг бичнэ үү? /3 оноо/

Start→Shutdown→Log Off.....

3. Word программыг дуудаж ажиллуулах зөв дарааллыг бичнэ үү? /3 оноо/

.....

4. Баллуур буюу ашиглагдахгүй зураг, дүрс, цэг, зураас бүрийг арилгадаг командыг гэнэ. /1 оноо/

5. Цахим орчины ёс зүй гэж юу вэ? Энэ тухай бичнэ үү. /5 оноо/

.....

6. Дараах тохиолдол бүрийн хувьд хүн мэдээлэл хүлээн авч байгаа. Тэгвэл бичвэр, зураг болон мэдрэхүйн эрхтнийг зөв харгалзуулан зураарай. /5 оноо /

№	Үйлдэл	Эрхтэн	Мэдрэхүй
1	Цас, мөсөнд шүргэх		Сонсох
2	Хоол амтлах		Үнэрлэх
3	Ном унших		Амтлах
4	Утаа		Харах
5	Хөгжим сонсох		Хүрэлцэх



7. Хоосон нүдэнд гарын үндсэн байрлалын үсгүүдийг нөхөж бичнэ үү? /5 оноо/

	ы		ө		р	о	л		
--	---	--	---	--	---	---	---	--	--

8. Дараах командуудыг зөв холбоно уу /6 оноо/

Shapes	Дүрсийн хүрээ	Rotate	харандаа
Outline	Өнгөөр дүүргэх	Pencil	тэгш өнцөгт
Fill	Дүрсүүд ашиглах	Rectanjle	эргүүлэх

9. Дараах дүрсүүд ямар сайтуудын таних тэмдэг вэ? Мөн үүрэг зориулалтыг нь бичнэ үү? /4 оноо/

Icon	Нэршил	Үүрэг зориулалт	Icon	Нэршил	Үүрэг зориулалт
					

10. Дараах командуудын гараас биелэгдэх товчлуурууд болон үүргийг бичнэ үү? /7 оноо/

Команд	Гарын хослол	Үүрэг	Команд	Гарын хослол	Үүрэг
Copy			Cut		
Paste			Delete		

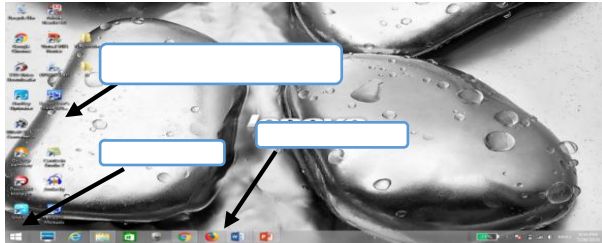
Задгай даалгавар

1. Дараах объектуудыг ажиглаад хүснэгтийг бөглөнө үү /3 оноо/

№	Нэр	Амьдрах орчин	Объектын ашиг шим
1			
2			
3			
4			
5			

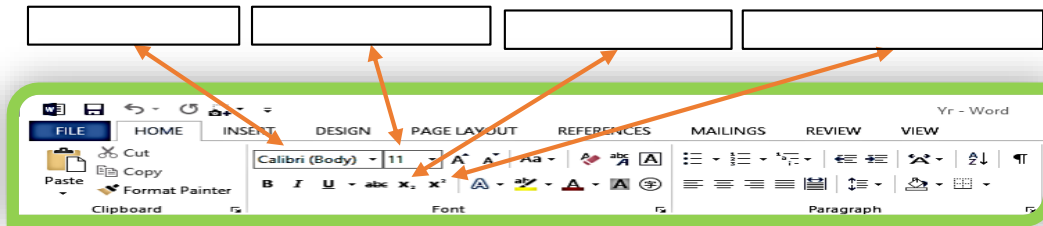


2. Хүүхдүүдээ дараах командуудыг зөв байрлуулж бөглөөрэй /3 оноо/



№	Командууд
1	Icon - Программ, файл буюу түүнийг төлөөлөх дүрс
2	Desktop – Ажлын ширээ
3	Start – Эхлэх цэс

3. Хүүхдүүдээ дараах командуудын нэр, гараас биелэгдэх товчлууруудыг бичээрэй. /4 оноо/



4. Хүүхдүүдээ дараах өгүүлбэрүүдийг нөхөж бичээрэй. /2 оноо/

- ✓ Интернэтэд маш их байдаг тул мэдээллийг тодорхой зорилгоор хайж ашиглах хэрэгтэй.
- ✓ Интернэтээр дамжуулан хүмүүс өөр хоорондоо





5. Дараах загварчилгаа нь ямар загвар болохыг тодорхойлон бичнэ үү? /6 оноо/

Загвар	Ямар загвар вэ?	Загвар	Ямар загвар вэ?
		Дээлний түүхийн хэсгээс Хүннү гүрний үед Монгол үндэсний хувцасны нийтлэг шинж төрхтэй Монгол үндэсний хувцас нь үүсч манай орны цаг уурын нөхцөл болон дөрвөн улирлын байдалд зохицсон дөрвөн цагийн гол хувцас бол дээл юм.	
		Эмэгтэй дээлэнд: 4м өнгө даавуу ордог, доторлогоонд мөн 4м даавуу, эмжээрт 1 метр, товч шилбэ, өнгө дагуу утас, 3м бүс.	

6. Дараах хүснэгтийг бөглөнө үү /8 оноо/

Зураг	Команд	Үүрэг зориулалт	Зураг	Команд	Үүрэг зориулалт

7. Доорх хүснэгтэн дэх мэдээллийг харгалзуулна уу? /8 оноо/

Команд	Зураг	Үүрэг зориулалт
Rulers		Ажлын хуудсыг хураангуйлж харуулах
Full screen		Хэмжээг харуулах
Gridlines		Ажлын хуудсыг стандарт буюу 100% харуулах
Thumbnail		Ажлын хуудсыг дэлгэж дүүрэн харуулах

8. Хүүхдүүдээ гэр бүлийнхээ гишүүдээс хамгийн ихдээ 2 хүнийг сонгож, тэдгээр хүмүүсийн интернэтийн хэрэглээг судалж, хэрхэн ашигладаг талаар доорх хүснэгтийг бөглөөрэй. /6 оноо/

Гишүүн	Мэдээ уншдаг	Цахим шуудан	Нийгмийн сүлжээ	Ажлаа хийдэг	Сургалтад суудаг	Бусад

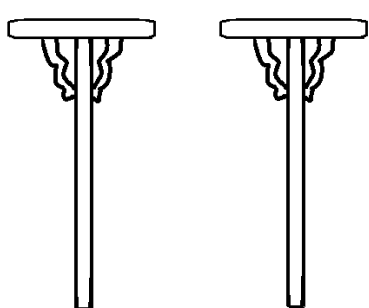
Бүтээх даалгавар

1. Доорх бичвэр мэдээллийг бичнэ үү? /9 оноо/

Гэр бүлийн харилцаа

Гэр бүл гэдэг нь гагц өөрийн голомтыг өгүүлдэггүй. Удамшилтай ээлтэй хүчинг бүрдүүлж буй хүмүний ай нь өөрөө гэр бүл юм. **Гэр бүлийн хамгийн бага нэгж нь өрх, голомт бол хамгийн том нэгж нь амьдралын зүй тогтлын жамын дагуу болбоос нэг гарвал угсаа, отог болно.** Гарвал угсааны харилцаа нь голомтын харилцаа лугаа адил дэлгэмэл байх албагүй. Харин үргийн модны удамшилт ээлт хүчиндээ дэмтэй байх хэм хэмжээнд цогцолж байвал зүйтэй. Хамаатан ханлиг буюу нэг гарвал угсаа нь голомт тусгаарлах, шинэ ураг мэндлэх, хүмүн өөдлөхөд нийгмийн хариуцлагаа гарвалдаа үүрч байх учиртай. Чингих аваас цус ойрдолт, холдолт, удамшлын гинжин хэлхээ эвдэрч, хүмүний бие сүйдэх өвчлөлийн тоог хязгаарладаг.

2. Дараах алхамын дагуу зурна уу? /9 оноо/



- 1-р алхам** Rounded rectangle командаа идэвхжүүлж Size командаас 1дэх өргөний сонголтыг хийж баганын дээд тал, голыг зурна. /1 оноо/
- 2-р алхам** Curve командаа идэвхжүүлж баганын хоёр талыг зурна. /1 оноо/
- 3-р алхам** Select командаа идэвхжүүлж зурсан баганаа сору буюу хуулж, paste буюу олшруулж баганаа хоёр болгоно. /1 оноо/
- 4-р алхам** Oval командаа сонгож тоононы гаднах, доторх, голд байрлах бөөрөнхий дүрсүүдийг зурна. /2 оноо/
- 5-р алхам** Curve командаа идэвхжүүлж тоононы огтлолцсон дүрсүүдийг зурна. /2 оноо/
- 6-р алхам** Eraseг командаа сонгож огтлолцсон дүрсүүдийн хэрэггүй хэсгийг арилгана. /2 оноо/

1-р алхам	/1 оноо/
2-р алхам	/1 оноо/
3-р алхам	/1 оноо/
4-р алхам	/2 оноо/
5-р алхам	/2 оноо/
6-р алхам	/2 оноо/